

CURSO NÚMEROS E REGULARIDADES PARA O ENSINO BÁSICO

Ficha de trabalho 2

Objetivo: Familiarizar com a utilização da reta numérica e interpretação de raciocínios dos alunos

Organização para realização da Atividade: Grupos de trabalho

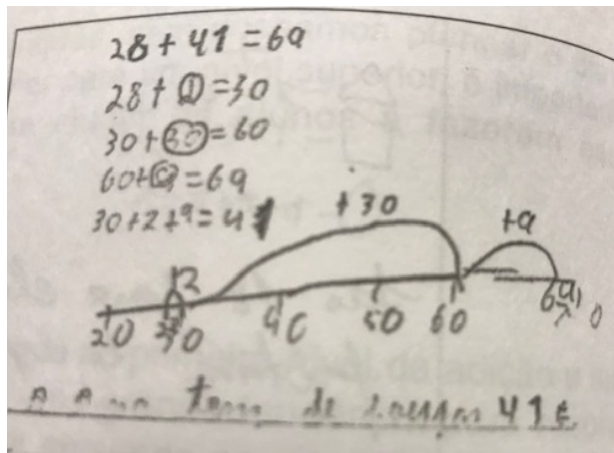
1. Resolvam o seguinte problema

A Ana já poupou 28 euros.
Quanto tem de poupar ainda para conseguir comprar este relógio?
Explica como fizeste.

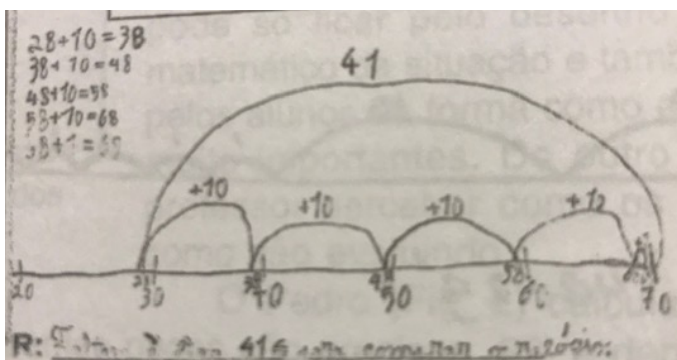


2. Analisem as diferentes resoluções dos alunos e interpretem cada uma, o que as diferencia?

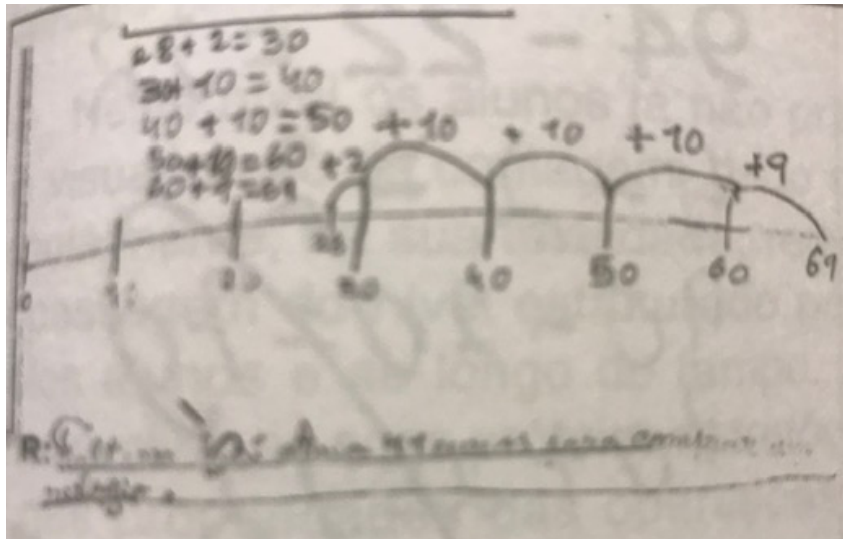
Resolução do Gonçalo



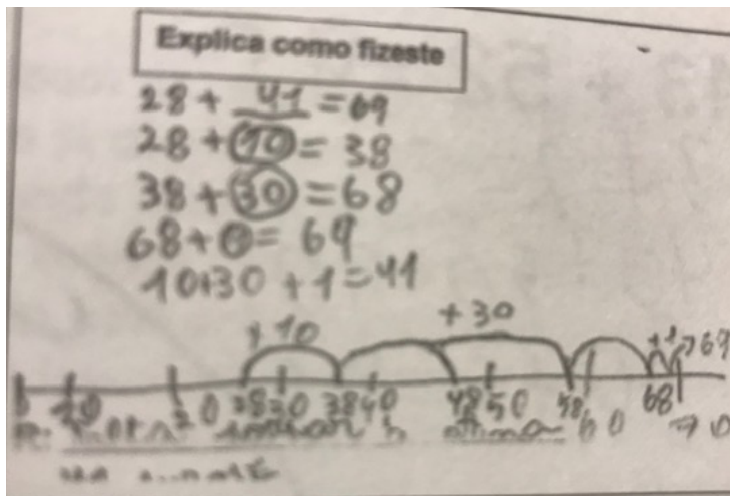
Resolução do Pedro



Resolução da Íris



Resolução da Sara



Resolução da Catarina

